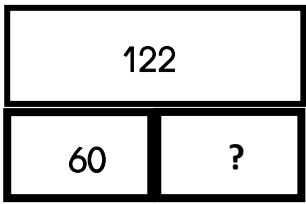
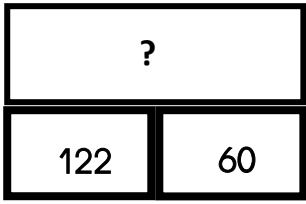
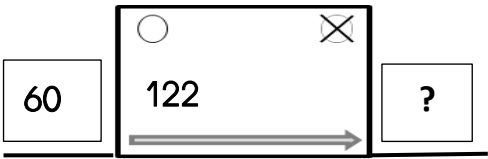

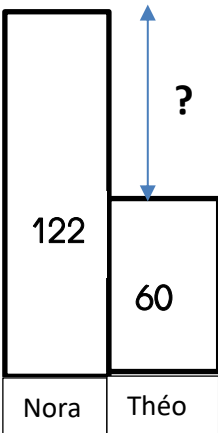


## CE2-ACP16-phase 1-schémas à découper et problèmes à afficher

<b>Problème 1</b> Samedi, le marchand a vendu 122 billes vertes et 60 billes rouges. Combien de billes le marchand a-t-il vendues ?	<b>Problème 2</b> Lola a 122 billes. Eliott a 60 billes de moins que Lola. Combien Eliott a-t-il de billes ?
<b>Problème 3</b> Léo avait 60 billes. Il gagne 122 billes à la récréation. Combien de billes Léo a-t-il maintenant ?	<b>Problème 4</b> Dans mes poches j'ai 122 billes. J'ai 60 billes dans ma poche droite. Combien de billes ai-je dans ma poche gauche ?
<b>Problème 5</b> Léa avait 122 billes avant la récréation. Après la récréation, elle en a 60. Combien de billes a-t-elle perdues pendant la récréation ?	<b>Problème 6</b> Nora a 122 billes. Théo a 60 billes. Qui a le plus de billes ? Combien de plus ?

<b>Schéma A</b> 	<b>Schéma B</b> 
<b>Schéma C</b> 	<b>Schéma D</b> 
<b>Schéma E</b> 	<b>Schéma F</b> 